

## 第四单元评估检测题(A卷)

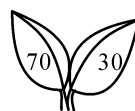
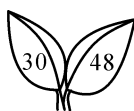
(时间:60分钟 满分:100分)

### 一、看谁算得又对又快(20分)

$29 - 9 =$	$63 + 4 =$	$29 + 60 =$	$80 - 20 =$	$16 + 8 =$
$75 + 3 =$	$6 + 70 =$	$8 + 53 =$	$42 + 8 =$	$56 - 6 =$
$92 - 4 =$	$28 + 5 =$	$30 + 22 =$	$21 - 4 =$	$64 + 9 =$
$48 + 7 =$	$55 - 8 =$	$39 + 6 =$	$4 + 26 =$	$25 - 9 =$

### 二、填空(19分)

1. 叶片上两个数的和是多少? 差是多少? 写在下面的横线上。



和\_\_\_\_\_差\_\_\_\_\_ 和\_\_\_\_\_差\_\_\_\_\_ 和\_\_\_\_\_差\_\_\_\_\_

2. 在○里填上“>”“<”或“=”。

$2 + 26$  ○  $46$      $7 + 56$  ○  $63$      $72 + 8$  ○  $70$

$75 - 50$  ○  $70$      $24$  ○  $84 - 6$      $48 + 6$  ○  $44$

3. 90 比( )大1, 比( )小1。

4. 84 比 50 多( ), 9 比 43 少( )。

5. 比 69 大比 73 小的数有( )、( )、( )。

### 三、连一连。(8分)

$92 - 30$

59

$25 + 7 + 30$

$40 + 14$

62

$40 + 8 + 6$

$39 + 7$

54

$24 - 8 + 30$

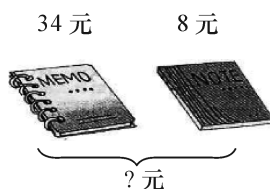
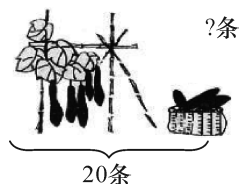
$37 - 8$

46

$81 - 20 - 2$

### 四、看图列式或填空。(12分)

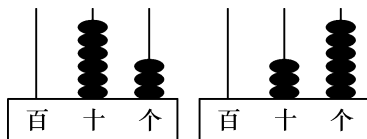
1. 看图列式计算。



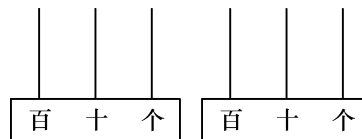
$$\square \bigcirc \square = \square$$

$$\square \bigcirc \square = \square$$

2. 根据要求填空。



( )  $\bigcirc$  ( )



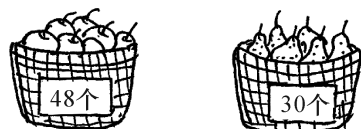
45  $\bigcirc$  100

### 五、解决问题(41 分)

1. 一共要栽 36 棵树。栽了一些后,再栽 8 棵树正好栽完。已经栽好了多少棵?(4 分)

2. 借走 7 本《数学故事》后还剩 38 本。原来有多少本《数学故事》?(4 分)

3. (6 分)




(1) 苹果比梨多多少个?

(2) 梨比苹果少多少个?

(3) 苹果和梨一共有多少个?

4. 合唱团一共有 50 人,男生有 30 人,女生有多少人?(5 分)



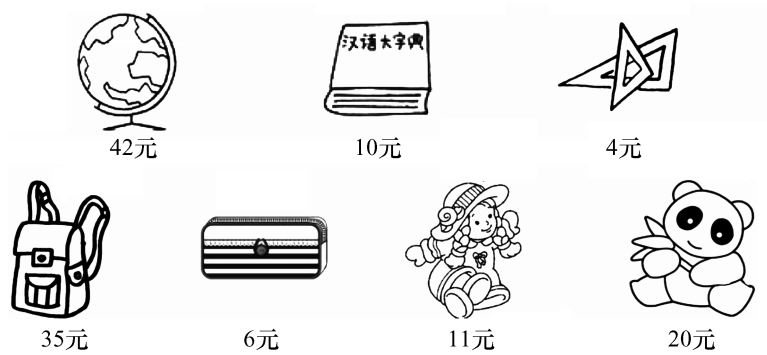
5. 星期天,小明在家里练习写毛笔字。(8 分)

(1) 小明一共要写多少个字?



(2) 写完的比剩下的多多少个字?

6. 购物。(8 分)



(1) 买一本《汉语大字典》和一个书包需要多少钱?

(2) 带 30 元钱,买一个熊猫玩具和一个布娃娃够吗?

(3) 有 50 元钱,买货架上的物品,最多可以买几种?

(4) 请你提出一个数学问题,并解答。

7. 做风车。(6 分)



请你提出至少两个数学问题并解答。

## A 卷评估标准及参考答案

### 评估标准:

本单元内容对于整个小学阶段的学习比较重要,学生学习的两位数加减一位数的方法,将是以后学生继续学习计算的基础。本套试卷在设计时本着夯实基础的原则,注重学生计算能力的培养及解决一般生活实际问题的能力,习题也多与教材的习题相仿,学生练习时不会出现畏难心理。本试题联系学生的生活实际设计了计算、填空、看图列式、解决问题等不同形式的习题,对本单元的知识点和 100 以内数的认识的重点知识进行强化和训练,让学生在练习的同时提高学生解决问题的能力。本套试题在难易程度上基础题占 90%,稍拔高题占 10%,只要学生保持良好的心态去完成,定能取得比较理想的成绩。

### 参考答案:

一、20 67 89 60 24;78 76 61 50 50;88 33 52 17 73;55 47 45  
30 16

二、1.69 61 78 18 100 40 2. < = > < < > 3.89 91 4.34  
34 5.70 71 72

### 三、略

四、1.  $20 - 5 = 15$   $34 + 8 = 42$   $2.63 > 36$  画算珠略  $45 < 100$

五、1.  $36 - 8 = 28$ (棵) 2.  $38 + 7 = 45$ (本) 3. (1)  $48 - 30 = 18$ (个) (2)  $48 - 30 = 18$ (个) (3)  $48 + 30 = 78$ (个) 4.  $50 - 30 = 20$ (人) 5. (1)  $26 + 8 = 34$ (个) (2)  $26 - 8 = 18$ (个) 6. (1)  $10 + 35 = 45$ (元) (2)  $20 + 11 = 31$ (元)  $30 < 31$  不够 (3) 最多可以买 4 种,买法不唯一 ①  $4 + 6 + 10 + 11 = 31$ (元) ②  $4 + 6 + 10 + 20 = 40$ (元)等 (4) 略  
7. 答案不唯一,略

### 重点讲评:

#### 二、填空题。

第 1 题,做这道题首先要明确和与差,和就是两个数相加,差就是两个数相减,需要注意的是第二个叶子上的数前面的数小,后面的数大,相减时要用后面的数减前面的数。

第 5 题:69 和 73 之间的数,可以把这些列出来,然后再填写,69、70、71、72、73,所以括号里就填写 70、71、72。

#### 五、解决问题。

第 2 题,通过读题,我们知道了原有的本数就是剩下的本数与借出的本数的和,所以用加法计算,列式计算为  $38 + 7 = 45$ (本)。

第 3 题,这道题的(1)和(2)一个是多多少,一个是少多少,只是问法不相同,但表达的意思是一致的,所以列式也是相同的。

第 7 题,这是一道开放题,题中给了做风车的 3 个数据,这 3 个数据可以任意的两两组合,可以是加法也可以是减法。如欢欢做了 4 个,乐乐做了 24 个,我们既可以求欢欢比乐乐少的,又可以求他们俩一共做的,列式分别为  $24 - 4 = 20$ (个),  $24 + 4 = 28$ (个),也可以选择其他的任意的两个数据提出问题并计算。